

نام و نام خانوادگی:

بسم الله الرحمن الرحيم

آموزگار: سمانه قاسمی

پایه سوم ابتدایی

آزمون ریاضی

نوبت اول دی ماه

دبستان پسرانه امام حسین (ع) بردسکن

سال تحصیلی 1401-1402

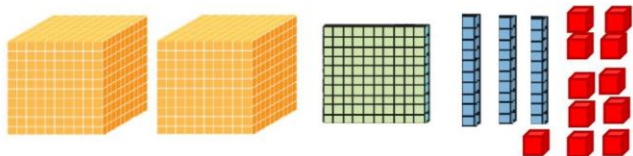
شماره

صورت سوال

به حروف یا عدد بنویس.

دو هزار و چهارده:.....

3617 :



یکان	دهگان	صدگان	هزارگان

1

به حروف: به رقم:

مقایسه کن:

2045 2450 1400 ریال 250 تومان 2 متر 180 سانتی متر

2

2600 گرم 2 کیلو و 600 گرم دو واحد و $\frac{1}{3}$ واحد یک واحد و $\frac{1}{2}$ واحد

جاهای خالی را کامل کن:

..... یعنی 2 یکی و 3 صدتایی و 4 هزارتایی.

260 تومان یعنی ریال

4 سانتی متر و 5 میلی متر یعنی میلی متر

158 سانتی متر یعنی متر و سانتی متر

8012 متر یعنی کیلومتر و متر.

وسیله اندازه گیری زاویه راست نام دارد.

یک قطر از شعاع درست شده است.

3

الگوها را ادامه بده:

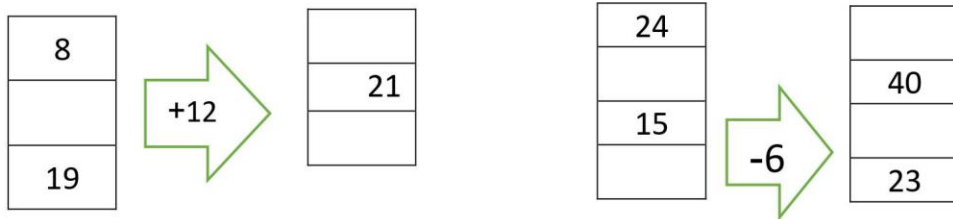
1 ، 3 ، 6 ، 10 ، ، ، ، ، ، 2200 ، 2400 ، 2600

6545 ، 6645 ، 6745 ، ، ، ، ، ، 932 ، 942 ، 952

1100 ، 1300 ، 1500 ، ، ، ، ، ، 725 ، 730 ، 735

4

ماشین ها را کامل کن:



5

تمام عددهای چهاررقمی که رقم یکان 2، رقم دهگان 3 و 4، رقم صدگان 5 و 6 و 0 و رقم هزارگان 7 باشد بنویس.

6

✓ کوچکترین عددی که ساختی کدام است؟

جایگاه عددهای زیر را روی محور نشان بده:

1445 - 2732 - 4698 - 114



7

$\frac{1}{3}$ واحد مانده به عدد 3



✓ این جایگاه یعنی — واحد بعد از عدد

ساعت : بعد از ظهر یا : است.



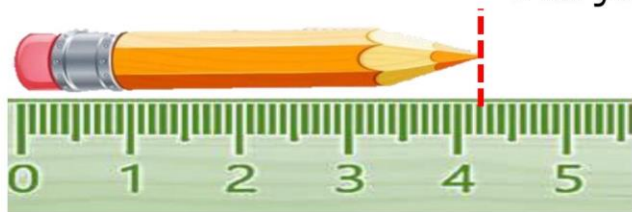
یا مانده به ساعت 7 است.

عقربه بزرگ از ساعت 6 چه کسری از ساعت را طی کرده است؟ — ساعت

چه کسری از ساعت به ساعت 7 مانده است؟ — ساعت

8

طول مداد از سانتی متر بیشتر و سانتی متر کمتر است.



طول مداد سانتی متر و میلی متر است،

یعنی طول مداد میلی متر است.

طول مداد سانتی متر و — سانتی متر است.

9

<p>10</p>	<p>پدر علی و محمد به هر کدام مقدار مساوی پول داد. اگر علی $\frac{2}{3}$ پولش و محمد $\frac{2}{4}$ پولش را صدقه دهند، کدامیک مقداری بیشتری صدقه داده است؟</p> <p>در یک مغازه گلفروشی یک کمد دیواری 6 قفسه دارد. در هر قفسه 5 گلدان وجود دارد. در هر گلدان 2 گل وجود دارد.</p>
<p>11</p>	<p>✓ در دو قفسه این کمد چند گل وجود دارد؟ ✓ در سه قفسه این کمد چند گلدان وجود دارد؟ ✓ الگوی بین گلدان ها در هر قفسه را بنویس. ✓ هر یک قفسه که پایین می آیم الگوی بین گل ها را بنویس.</p>
<p>12</p>	<p>1 دلار کشوری به اندازه 1300 تومان ارزش دارد. 3 دلار ارزش بیشتری دارد یا 3000 تومان؟</p>
<p>13</p>	<p>مادر سارا خیاط است. او یک پارچه مستطیل شکل را به دو قسمت مساوی تقسیم کرد. با یک قسمت آن پیراهن دوخت. نیمه دیگر را به 2 قسمت مساوی تقسیم کرد و با یک نیمه آن روسری دوخت. با قسمت از قسمت مساوی پیراهن دوخته است. با قسمت از قسمت مساوی روسری دوخته است.</p>
<p>14</p>	<p><u>ضرب های زیر را با هر روشی دوست داری حساب کن:</u></p> <p>$5 \times 2 = \square$</p> <p>$3 \times 6 = \square$</p>

بازخورد
معلم:

هدف	خ	خ	ق	ن
تقریب				
کسر روی ساعت و ساعت				
کسر روی اندازه گیری				
مقایسه کسر				
حل مسئله های متنی				

هدف	خ	خ	ق	ن
عدد نویسی				
مقایسه اعداد و کسر ها				
تبدیل واحد				
الگویابی				
ماشین ها				