



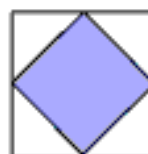
۱- در هر شکل چه کسری رنگ شده است؟



.....



.....



.....

۲- هریک از شکل های زیر از تعدادی مربع درست شده است. با ادامه دادن آن ها در شکل نهم چند مربع خواهیم داشت؟



.....

؟

۳- گزینه ی درست را در هر مورد مشخص کنید.

الف) در یک شانه تخم مرغ ۵ ردیف ۶ تایی تخم مرغ وجود دارد.  $\frac{2}{6}$  تخم مرغ ها چند تا است؟

- (۱) ۱۲ تا     
  (۲) ۱۰ تا     
  (۳) ۶ تا     
  (۴) ۵ تا

ب) به جای علامت سوال کدام گزینه را قرار دهیم تا تساوی کامل شود؟  $\frac{\square}{28} = \frac{3}{4}$

- (۱) ۷     
  (۲) ۱۴     
  (۳) ۲۱     
  (۴) ۲۴


ج) کسر  $\frac{5}{4}$  چه کسری کم دارد تا دو واحد کامل شود؟

- (۱)  $1\frac{1}{4}$      
  (۲)  $\frac{3}{4}$      
  (۳)  $1\frac{2}{4}$      
  (۴)  $\frac{7}{4}$

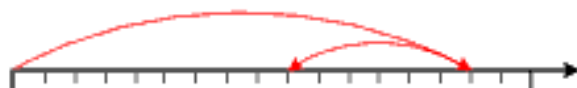
۴- برای شکل های زیر جمع و یا تفریق بنویسید.



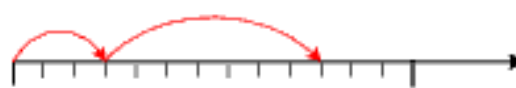
.....



.....



.....



.....